

1. 蛇口の前は…? ① 1. 蛇口の前は…? ② 1. 蛇口の前は…? ③ 1. 蛇口の前は…? ④ 1. 蛇口の前は…? ⑤ 1. 蛇口の前は…? ⑥ 1. 蛇口の前は…? ⑦ 1. 蛇口の前は…? ⑧ 1. 蛇口の前は…? ⑨ 1. 蛇口の前は…? ⑩ 1. 蛇口の前は…? ⑪ 1. 蛇口の前は…? ⑫ 1. 蛇口の前は…? ⑬ 1. 蛇口の前は…? ⑭ 1. 蛇口の前は…? ⑮ 1. 蛇口の前は…? ⑯ 1. 蛇口の前は…? ⑰ 1. 蛇口の前は…? ⑱ 1. 蛇口の前は…? ⑲ 1. 蛇口の前は…? ⑳ 1. 蛇口の前は…? ㉑ 1. 蛇口の前は…? ㉒ 1. 蛇口の前は…? ㉓ 1. 蛇口の前は…? ㉔ 1. 蛇口の前は…? ㉕ 1. 蛇口の前は…? ㉖ 1. 蛇口の前は…? ㉗ 1. 蛇口の前は…? ㉘ 1. 蛇口の前は…? ㉙ 1. 蛇口の前は…? ㉚ 1. 蛇口の前は…? ㉛ 1. 蛇口の前は…? ㉜ 1. 蛇口の前は…? ㉝ 1. 蛇口の前は…? ㉞ 1. 蛇口の前は…? ㉟ 1. 蛇口の前は…? ㊱ 1. 蛇口の前は…? ㊲ 1. 蛇口の前は…? ㊳ 1. 蛇口の前は…? ㊴ 1. 蛇口の前は…? ㊵ 1. 蛇口の前は…? ㊶ 1. 蛇口の前は…? ㊷ 1. 蛇口の前は…? ㊸ 1. 蛇口の前は…? ㊹ 1. 蛇口の前は…? ㊺ 1. 蛇口の前は…? ㊻ 1. 蛇口の前は…? ㊼ 1. 蛇口の前は…? ㊽ 1. 蛇口の前は…? ㊾ 1. 蛇口の前は…? ㊿ 1. 蛇口の前は…? ㉑ 1. 蛇口の前は…? ㉒ 1. 蛇口の前は…? ㉓ 1. 蛇口の前は…? ㉔ 1. 蛇口の前は…? ㉕ 1. 蛇口の前は…? ㉖ 1. 蛇口の前は…? ㉗ 1. 蛇口の前は…? ㉘ 1. 蛇口の前は…? ㉙ 1. 蛇口の前は…? ㉚ 1. 蛇口の前は…? ㉛ 1. 蛇口の前は…? ㉜ 1. 蛇口の前は…? ㉝ 1. 蛇口の前は…? ㉞ 1. 蛇口の前は…? ㉟ 1. 蛇口の前は…? ㊱ 1. 蛇口の前は…? ㊲ 1. 蛇口の前は…? ㊳ 1. 蛇口の前は…? ㊴ 1. 蛇口の前は…? ㊵ 1. 蛇口の前は…? ㊶ 1. 流し

川で行われた大きな工事

川に… びだ…の…

川に…なる…

川に…なる…


付録

(1) 家の中ではどこから?

水道水はどこから来るのでしょうか? 外で探す前に、家の中ではどうか見てみましょう。

流しや洗面所の蛇口は壁などにつけられていて、どこから来ているかわからないこともあります。水洗トイレの場合、水が来るパイプが見えることがあります。

どうやら床下から来ていることが多いようです。



上のタイプの水洗トイレだと、タンクにつながっているパイプから、水が床下からきている(右)ことがわかる。

蛇口が、流しや壁などにつけてあるとわかりにくいですが、たいていは、床下から水がきている。

(2) 床下をのぞいてみると



もし床の下や地下室を見ることができたら、ちょっと見てみましょう。

いくつかのパイプが見えます。家の中にある蛇口を思い出して水道のパイプを見ると、水は地面の下から来ていることがわかります。また、家の外にある水道メーターも地面の下につながっています。

注意!!…床下にはそれぞれの家によって、いろいろな設備があります。まちがってこわすと大変なことになるので、必ず、お父さん・お母さんなど、おとなといっしょに見るようにしましょう。



床下のぞきは、おとなといっしょに。



水道メーター。水が流れた量を土の中で計っている。

蛇口につながるパイプをたどってみると、土の中から出ていた。